

TUW

Materiały wypełniane przez ucznia w trakcie badania



START

META



Rysunek przedstawia różne kształty. Wśród nich są dwa identyczne. Znajdź je i wskaź.



A



B



C



D

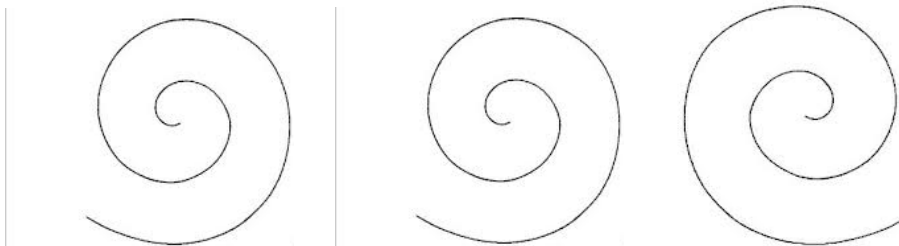


E

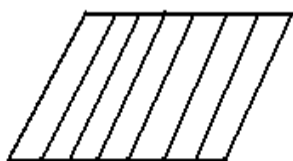
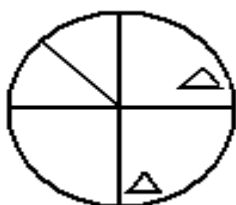
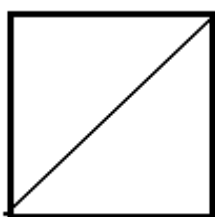


F


Przykład:



Zadania:



Karta do wykonania rysunku



Karta dyktanda

4 ↓	1 →	1 ↙
1 ↙	5 ↑	3 ↓
6 ↓	2 ←	1 ←
1 ↘	1 ↓	4 ↑
3 ↓	1 ←	2 ↗
1 →	3 ↑	4 ↘
2 ↓	4 →	3 ↑
1 ←	3 ↑	1 ↗
3 ↓	1 ←	1 →
9 ←	2 ↙	3 ↘
2 ↑	2 ↑	2 ←
3 →	2 ↗	1 ↙
3 ↑	1 ↑	1 ↙
	2 ↙	1 ↓
		2 ↘

Wśród podanych czterech wyrazów jeden nie pasuje do pozostałych. Znajdź go.

1. chata posiadłość muzeum rezydencja

2. gazeta czytelnik dziennik czasopismo



Wyjaśnij znaczenie podanych wyrazów:

nieokrzesany -

bojaźliwy -

życzliwy -

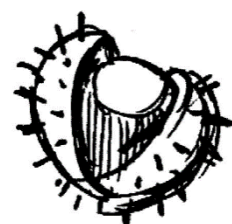
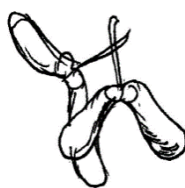
sumienny -



Przeczytaj początki i zakończenia przysłów, a następnie połącz je liniami w całość.

Kto pod kim dołki kopie		to myszy harcują.
Na pochyłe drzewo		tak się wyśpisz.
Gdy kota nie ma w domu		sam w nie wpada.
Jak sobie pościelesz		wszystkie kozy skaczą.

Połącz strzałkami owoce drzewa z jego liściem.



Na obrazkach poniżej przedstawiono rozwój motyla. Ponumeruj je według etapów jego rozwoju

Gąsienica



Jajo



Dorosły motyl



Poczwarka




Poniżej przedstawiono schematy różnych owadów. Określ, które z nich są, według Ciebie, pożyteczne i dlaczego



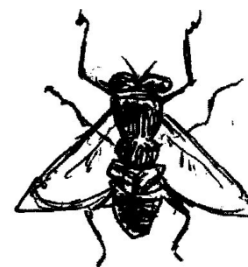
A



B



C



D

Ponieważ: _____

